

Nom :

Prénom :

salle n° :

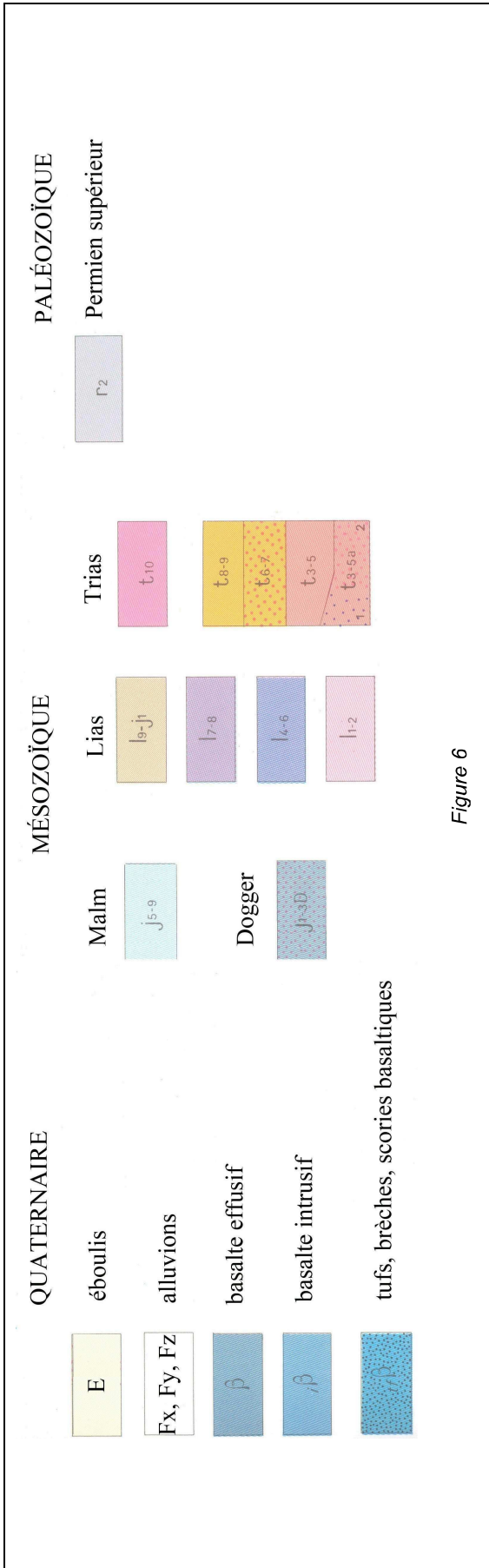


Figure 6

Réponse à la question II.A.




Figure 7

Nom :

Prénom :

salle n° :

II - B – À partir de l'analyse de l'extrait de carte de la figure 5 et de la coupe que vous avez réalisée, présentez les grandes étapes de l'histoire géologique de ce secteur.

Réponse à la question II-B

Bilan des parties I et II

Le paysage n°1 que vous avez étudié dans la partie I est situé à quelques kilomètres à l'ouest de l'extrait de carte analysé dans la partie II.

II -C – Proposez un scénario rendant compte de la morphologie actuelle de ce secteur.

Réponse à la question II-C

Nom :

Prénom :

salle n° :

Partie III - Étude d'un extrait de la carte géologique de Montpellier au 1/250 000

durée conseillée : 20 mn - barème : 4 /20

La figure 8 est un extrait de la carte géologique de Montpellier au 1/250 000, situé au nord-est du secteur étudié dans les deux premières parties.

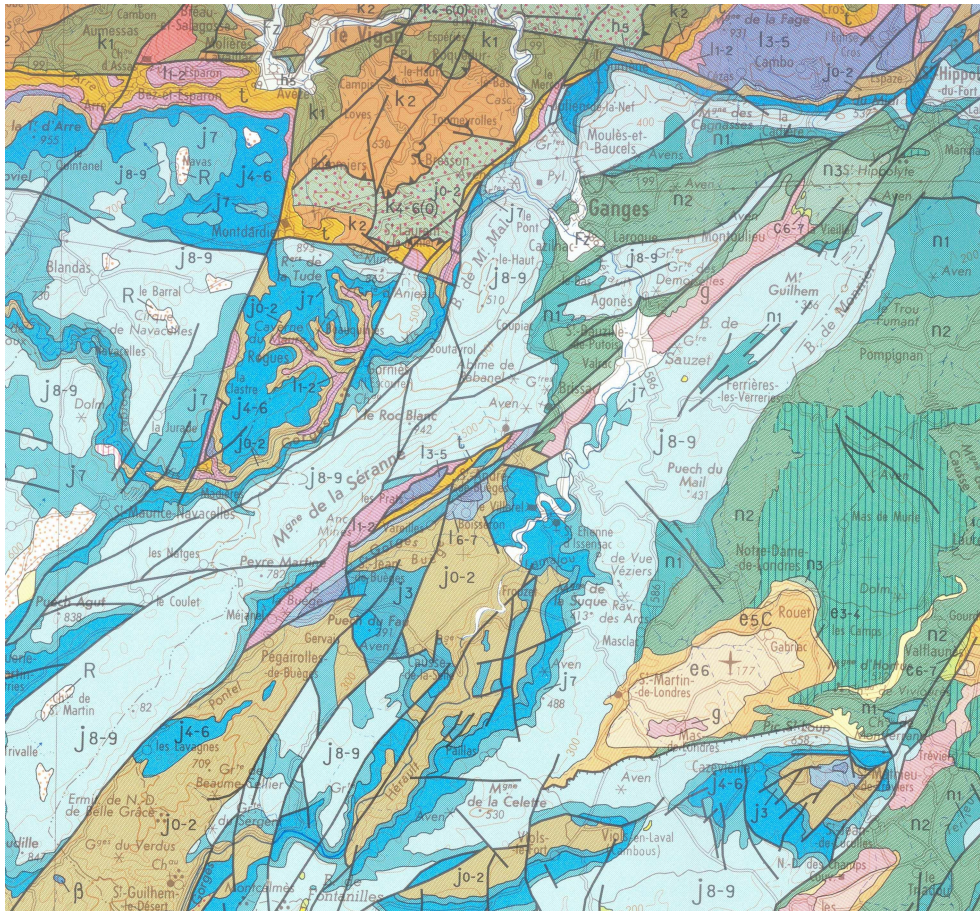


Figure 8

R : dépôts résiduels - g : Oligocène – e : Éocène – c : Crétacé supérieur – n : Crétacé inférieur

j : Jurassique supérieur et moyen - l : Jurassique inférieur – t : Trias – k : Cambrien