



Sujet d'étude 4 : De l'état français à
la quatrième république

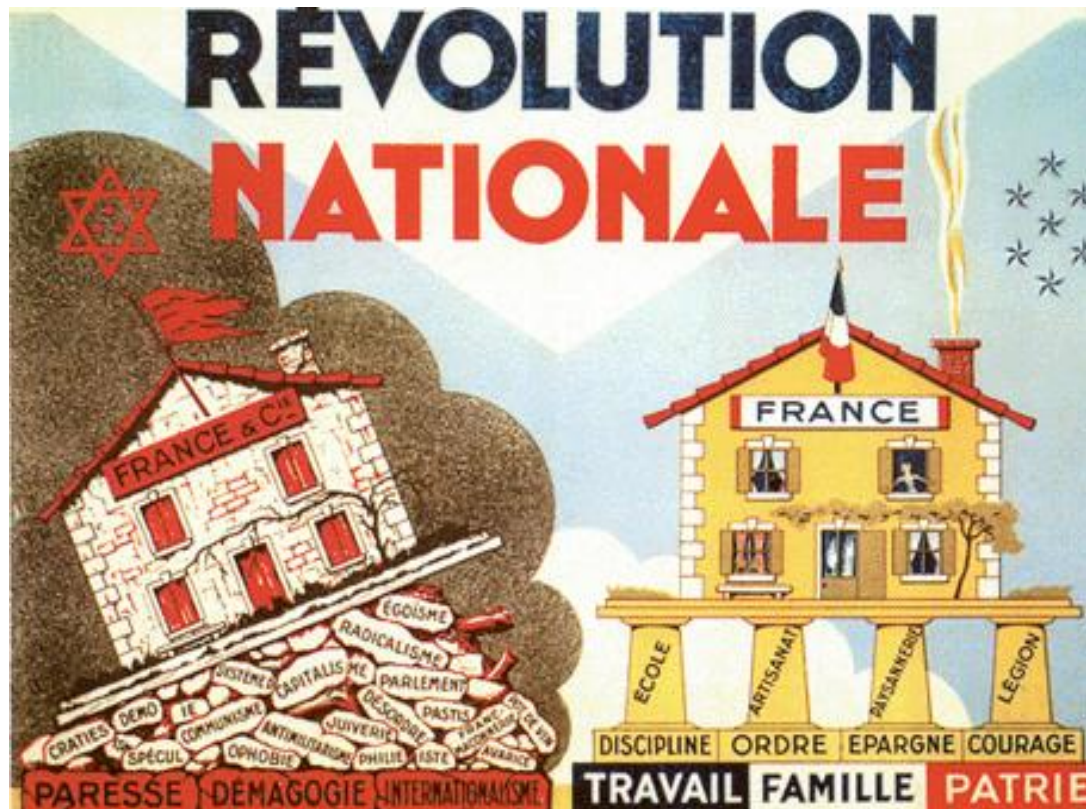
Etude d'images de propagande
groupe 2

Histoire – Première BAC PRO

ERR Limoges – Mai 2013

Sujet d'étude 4 : De l'état français à la quatrième république

Etude d'images de propagande – image 3



La révolution nationale, affiche de R. VACHET, non datée et éditée à Avignon.

L'affiche a probablement été publiée entre 1940 et 1941, au début de la Révolution Nationale, décrétée par le Maréchal Pétain.

Manuel Histoire Géographie
Education Civique

1^{ère} BAC PRO 3 ans

Foucher, page 65.

Sujet d'étude 4 : De l'état français à la quatrième république

Etude d'images de propagande – image 4

Image disponible sur le site
des archives départementales
de la Savoie
(Voir lien internet)

Conseil général de la Savoie
Archives départementales de la Savoie -
www.savoie-archives.fr

http://www.savoie-archives.fr/archives73/expo_savoie_des_ombres/pano10/pages/02-03-STOA_3.html

Exposition : La Savoie des Ombres

Affiche de propagande en faveur de la
Relève.

Sans date

Collection Aimé Pétraz

*"Finis les mauvais jours ! Papa gagne de
l'argent en Allemagne !"*

Sujet d'étude 4 : De l'état français à la quatrième république

Etude d'images de propagande – questionnaire image 3

- **Questionnaire écrit groupe 2 - image 3**
 - Qu'est-ce que la révolution nationale ?
 - Un parti politique
 - Un régime politique
 - Une victoire politique
 - Cette affiche se divise en deux parties. Complétez le tableau à l'aide des éléments de cette image.

Eléments de l'image	Maison de gauche	Maison de droite
État général de la maison		
Bases de la maison		
Arrière plan de la maison		

Sujet d'étude 4 : De l'état français à la quatrième république

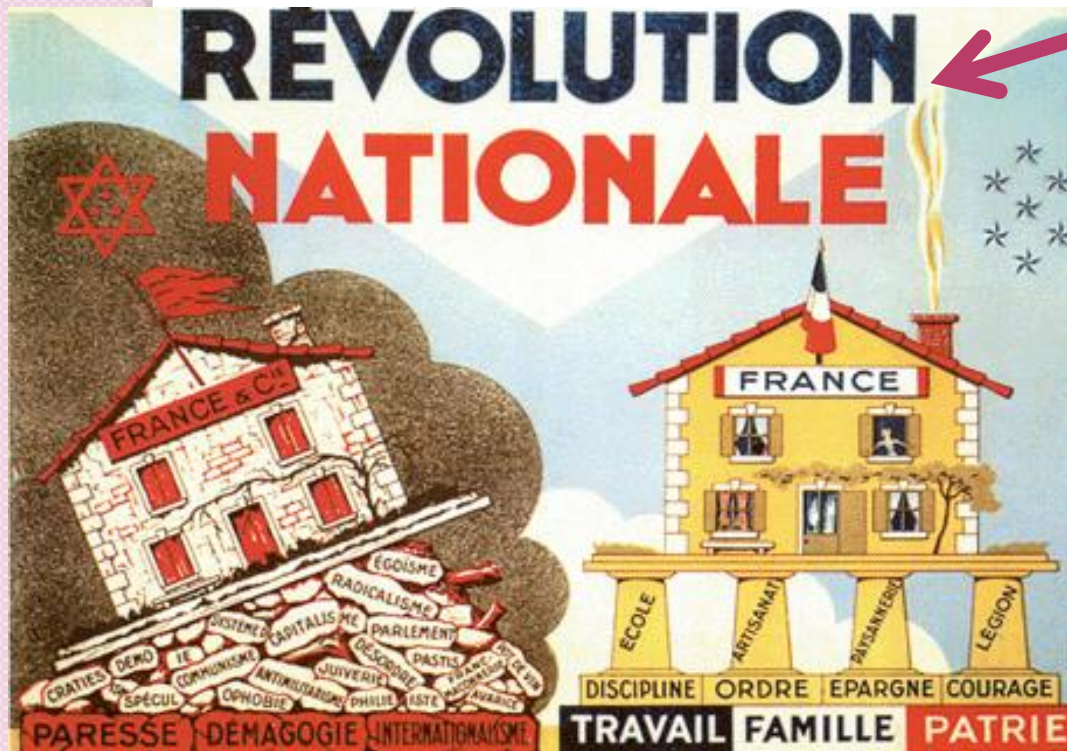
Etude d'images de propagande – questionnaire image 3

- **Questionnaire écrit groupe 2 - image 3**
 - « Travail, famille, patrie » : Comment appelle-t-on cette phrase ?
 - Une devise
 - Une maxime
 - Un proverbe
 - Une fois que vous avez trouvé les bonnes réponses, cherchez sur WIKIPEDIA :
 - A quelle ville française est associée « la révolution nationale » et la phrase « Travail, famille, patrie » ?
 - Quel homme politique associez-vous à ce régime politique ?
 - A quelle période a-t-il dirigé la France ?
 - Si la maison de droite symbolise le régime politique de « la révolution nationale », quel régime politique précédent est représentée par la maison de gauche ?
 - Les trois mots qui symbolisent la fondation de la première maison sont « Paresse, démagogie, internationalisme ». Ces trois mots sont un détournement des trois mots qui définissait le régime politique français avant la révolution nationale. Quels sont ces trois mots ?

Sujet d'étude 4 : De l'état français à la quatrième république

Etude d'images de propagande – image 3

Qu'est-ce que la révolution nationale ?




Un parti
politique

Un régime
politique

Une victoire
politique

Sujet d'étude 4 : De l'état français à la quatrième république

Etude d'images de propagande – image 3



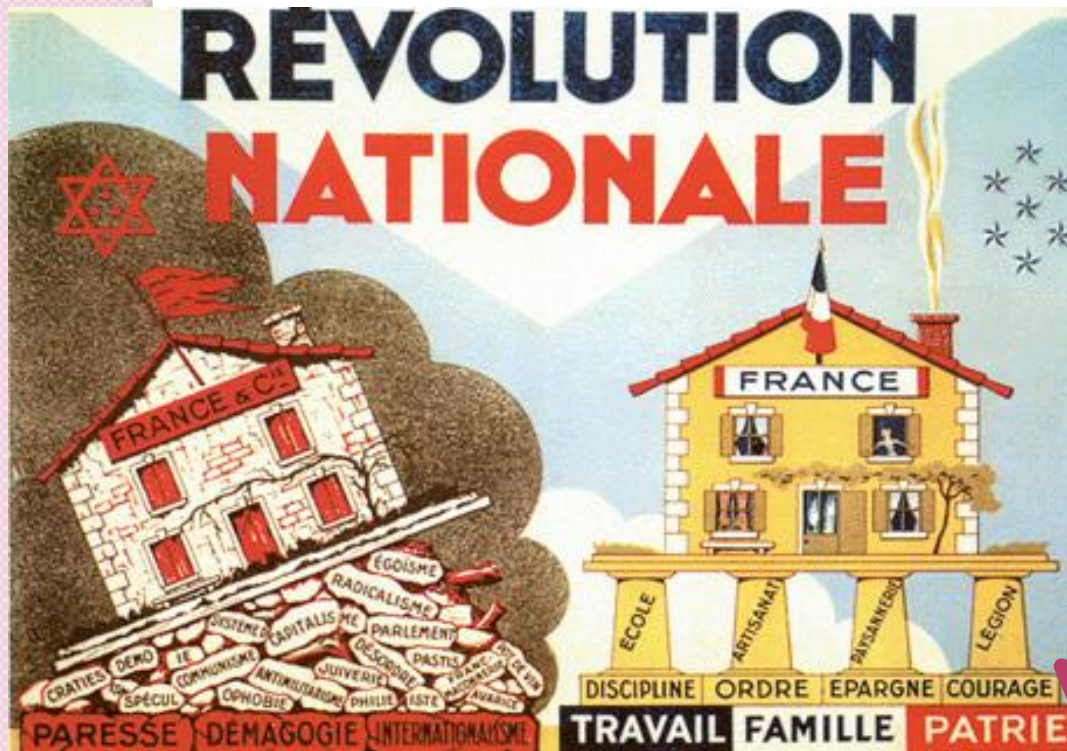
Cette affiche se divise en deux parties.
Complétez le tableau à l'aide des éléments de cette image.

Maison de gauche

Maison de droite

Sujet d'étude 4 : De l'état français à la quatrième république

Etude d'images de propagande – image 3



« Travail, famille, patrie »
Comment appelle-t-on cette phrase ?

Une devise

Une maxime

Un proverbe

Sujet d'étude 4 : De l'état français à la quatrième république

Etude d'images de propagande – image 3



Les trois mots qui symbolisent la fondation de la première maison sont « Paresse, démagogie, internationalisme »
Ces trois mots sont un détournement des trois mots qui définissaient le régime politique français avant la révolution nationale.

Quels sont ces trois mots ?

Sujet d'étude 4 : De l'état français à la quatrième république

Etude d'images de propagande – questionnaire image 4

- **Questionnaire écrit groupe 2 - image 4**
 - Que fait le personnage en arrière plan ?
 - Il travaille dans une usine
 - Il part à la guerre
 - Il rentre chez lui
 - En vous aidant de tous les éléments de l'image, dites dans quel pays se trouve cet homme.
 - En France
 - En Allemagne
 - Au Royaume-Uni
 - Une fois que vous avez trouvé les bonnes réponses, cherchez sur WIKIPEDIA :
 - Quel nom fut donné au programme qui obligeait les ouvriers français à travailler en Allemagne ?
 - Quelle valeur de ce régime politique est mis en avant par le lien qui unit les deux groupes de personnages ?
 - Le travail
 - La famille
 - La patrie
 - Une fois que vous avez trouvé la bonne réponse, cherchez sur WIKIPEDIA :
 - Quelle fête de famille est apparue en France à cette époque ?
 - En vous aidant des éléments de l'image et du texte, expliquez quel est l'état d'esprit des personnages.

Sujet d'étude 4 : De l'état français à la quatrième république

Etude d'images de propagande – image 4



Que fait le personnage en
arrière plan ?

Il travaille dans
une usine

Il part à la
guerre

Il rentre chez
lui

Sujet d'étude 4 : De l'état français à la quatrième république

Etude d'images de propagande – image 4

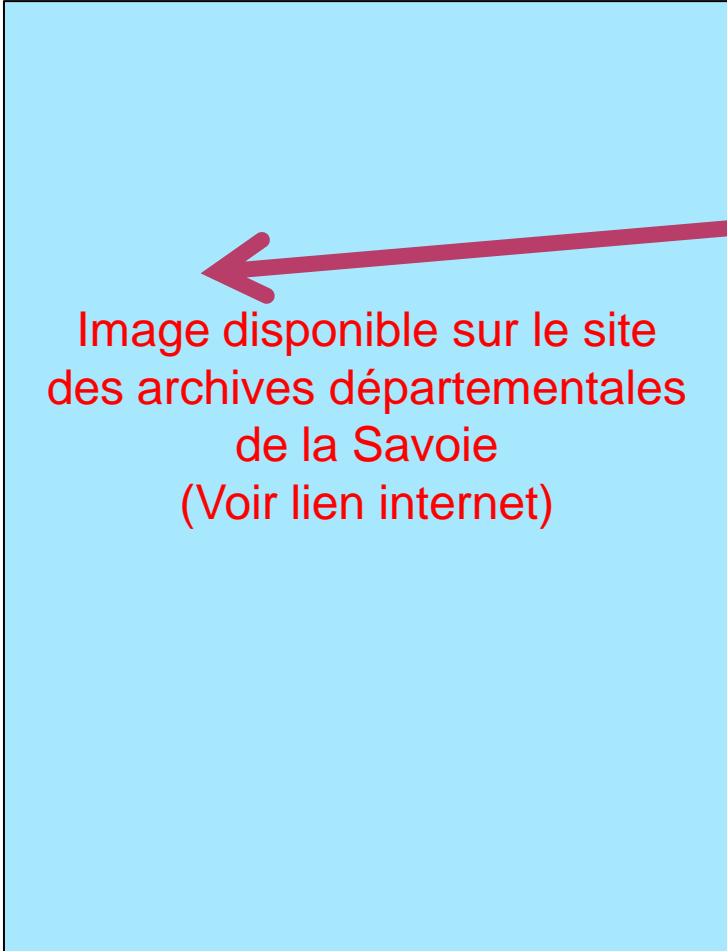


Image disponible sur le site
des archives départementales
de la Savoie
(Voir lien internet)

En vous aidant de tous les
éléments de l'image, dites
dans quel pays se trouve cet
homme.

En France

En Allemagne

Au Royaume-
Uni

Sujet d'étude 4 : De l'état français à la quatrième république

Etude d'images de propagande – image 4

Image disponible sur le site
des archives départementales
de la Savoie
(Voir lien internet)

Quelle valeur de ce régime
politique est mise en avant
par le lien qui unit les deux
groupes de personnages ?

Le travail

La famille

La patrie

Sujet d'étude 4 : De l'état français à la quatrième république

Etude d'images de propagande – image 4

Image disponible sur le site
des archives départementales
de la Savoie
(Voir lien internet)

En vous aidant de tous les
éléments de l'image et du
texte, expliquez quel est l'état
d'esprit des personnages.

Vous pouvez
compléter la
conclusion...

Sujet d'étude 4 : De l'état français à la quatrième république

Etude d'images de propagande - conclusion

CONCLUSION :

Que savez-vous du régime politique présenté dans les images étudiées ?

Quelles sont les valeurs majeures de ce régime politique ?

Définissez une image de propagande

Ce n'est pas la bonne réponse...



Retournez à
la
question...

Ce n'est pas la bonne réponse...



Retournez à
la
question...

Ce n'est pas la bonne réponse...



Retournez à
la
question...

Ce n'est pas la bonne réponse...



Retournez à
la
question...

Ce n'est pas la bonne réponse...



Retournez à
la
question...

Ce n'est pas la bonne réponse...



Retournez à
la
question...

C'est une bonne réponse !



Passez à la
question
suivante...

C'est une bonne réponse !



N'oubliez pas la recherche Internet...



Passez à la question suivante...

C'est une bonne réponse !



Passez à la
question
suivante...

C'est une bonne réponse !



N'oubliez pas la recherche Internet...



Passez à la question suivante...

C'est une bonne réponse !



N'oubliez pas la recherche Internet...



Passez à la question suivante...