

FICHE D'ENTRAINEMENT N°1 - PARTIE 2 (4 points)

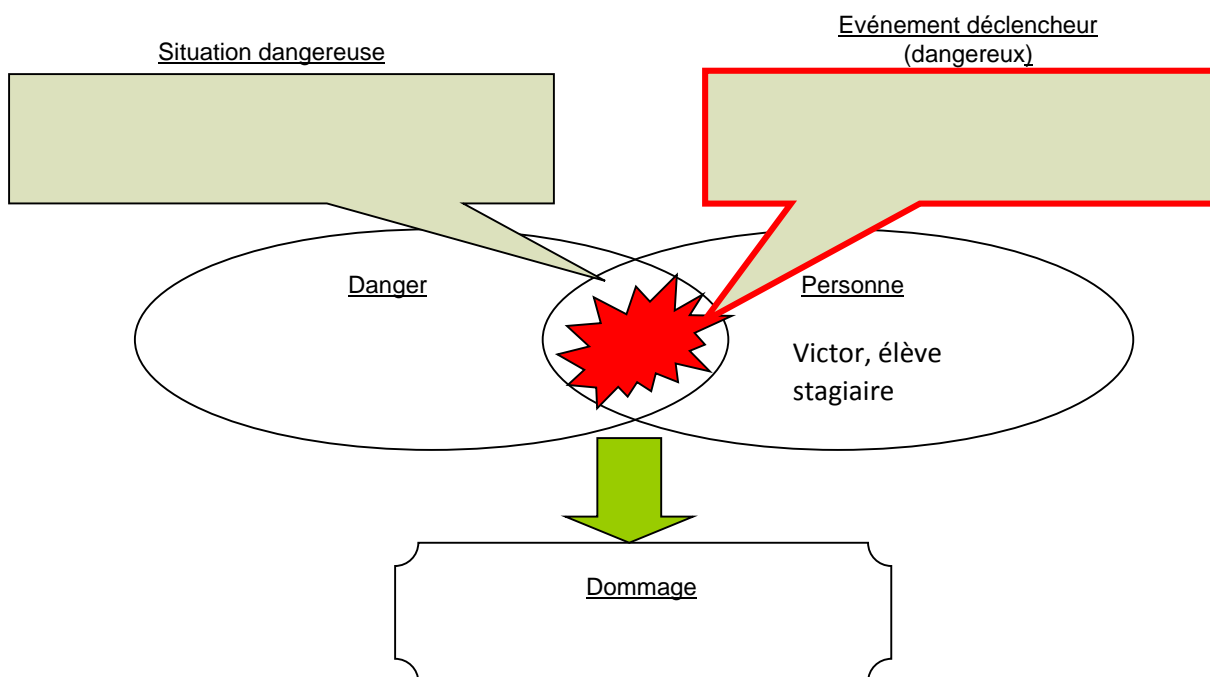
Situation professionnelle :

Victor, élève en terminale Baccalauréat Professionnel Commerce, est en Période de Formation en Milieu Professionnel à Bricoltou 3 allée des Lilas zone industrielle nord à Limoges – 05 55 01 02 03. Il est chargé de l’approvisionnement des rayons, il déplace des cartons de 12 kg.

Il réalise cette tâche 6h par jour.

Victor se trouve dans la réserve lorsqu’un carton glisse et tombe sur son pied gauche.

1- Analyser la situation en complétant le schéma de principe d’apparition d’un dommage (PAD) :



Il se blesse. Il a une fracture aux orteils qui nécessite un arrêt de travail. Louis, Sauveteur Secouriste du Travail, intervient. A partir de vos connaissances et de l’annexe 1, répondre aux questions suivantes :

2- Renseigner le tableau suivant concernant le récit d’accident de Victor :

Estimation du risque	Niveau de gravité
	Niveau de probabilité d'apparition du dommage
Évaluation du risque	

3- Compléter le tableau :

(Le professeur inscrit deux mesures et laisse deux cases libres)

Type de prévention		Mesures proposées
Niveau 1	Intrinsèque	Cartons plus légers
Niveau 2	Collective	
	Individuelle	Chaussures de sécurité
Niveau 3	Formation/information de l'opérateur	

4- Enumérer, par ordre chronologique, les quatre actions principales à mettre en œuvre par Louis, Sauveteur Secouriste du Travail :

- ▶
- ▶
- ▶
- ▶

5- Indiquer le contenu du message d'alerte donné par le secouriste à un témoin, en précisant le numéro à composer :

.....
.....
.....
.....
.....
.....

6- Nommer et justifier le geste de secours que doit pratiquer le SST :

.....

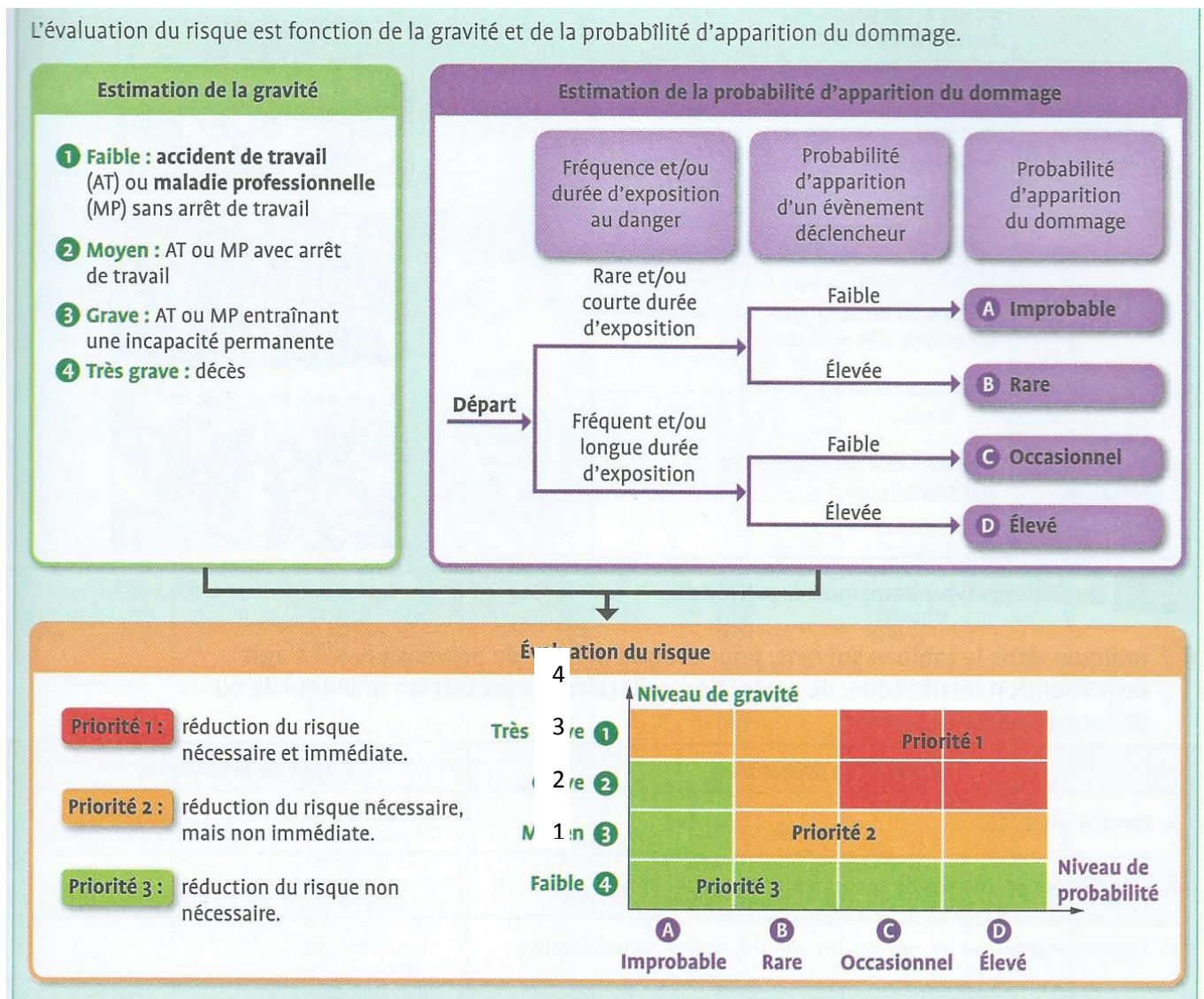
.....

.....

.....

ANNEXE 1

L'évaluation du risque :



Fiche d'entraînement n°1 - CORRIGE

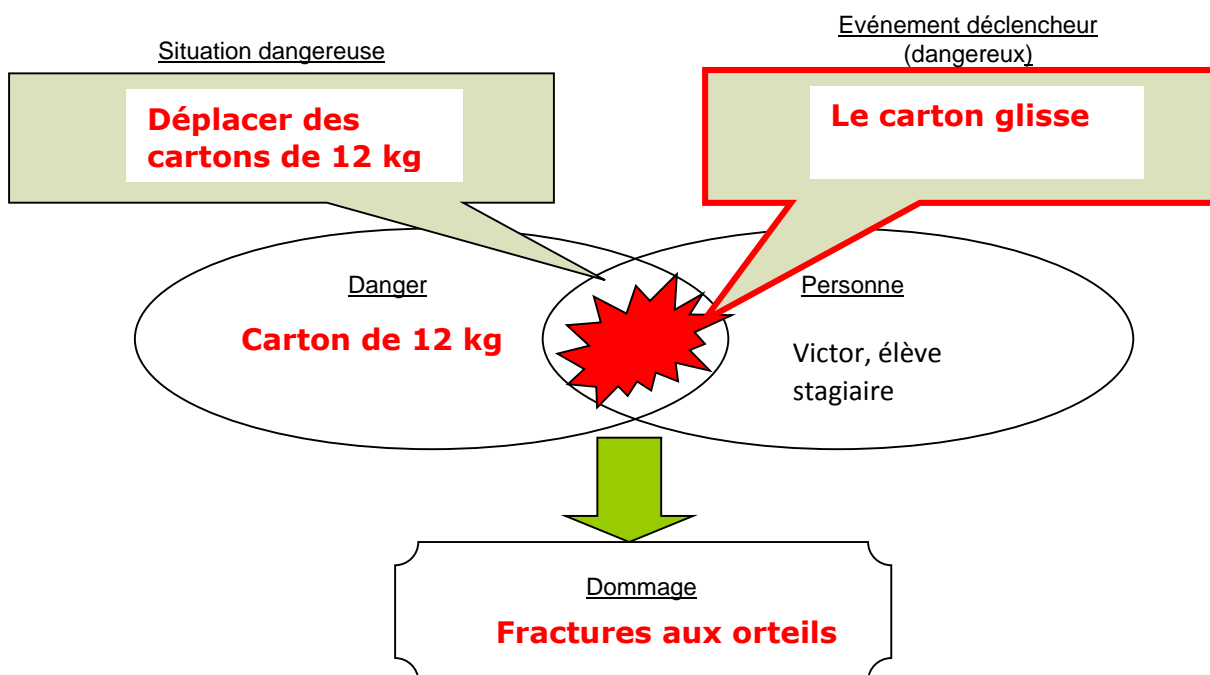
Situation : «récit d'accident»

Victor, élève en terminale Baccalauréat Professionnel Commerce, est en Période de Formation en Milieu Professionnel à Bricoltou 3 allée des Lilas zone industrielle nord à Limoges – 05 55 01 02 03. Il est chargé de l'approvisionnement des rayons, il déplace des cartons de 12 kg.

Il réalise cette tâche 6h par jour.

Victor se trouve dans la réserve lorsqu'un carton glisse et tombe sur son pied gauche et il se blesse. Il a une fracture aux orteils qui nécessite un arrêt de travail. Louis, Sauveteur Secouriste du Travail, intervient.

1- Analyser la situation en complétant le schéma de principe d'apparition d'un dommage (PAD) :



A partir de vos connaissances et des documents en annexe, répondre aux questions suivantes :

2- Renseigner le tableau suivant concernant le récit d'accident de Victor :

Estimation du risque	Niveau de gravité 2
	Niveau de probabilité d'apparition du dommage D
Évaluation du risque	 Priorité 2

3- Compléter le tableau :

(Le professeur inscrit deux mesures et laisse libres deux cases)

Type de prévention		Mesures proposées
Niveau 1	Intrinsèque	Cartons plus légers
Niveau 2	Collective	Diable, chariot
	Individuelle	Chaussures de sécurité
Niveau 3	Formation/information de l'opérateur	Formation PRAP

4- Enumérer, par ordre chronologique, les quatre actions principales à mettre en œuvre par Louis, Sauveteur Secouriste du Travail :

- ▶ **Protéger**
- ▶ **Examiner**
- ▶ **Faire alerter**
- ▶ **Secourir**

5- Indiquer le contenu du message d'alerte donné par le secouriste à un témoin, en précisant le numéro à composer :

Tu fais le 15, tu te présentes et tu dis qu'on se trouve à Bricoltou 3 allée des Lilas zone industrielle nord à Limoges – 05 55 01 02 03.

Tu dis qu'un de nos collègues a échappé un carton de 12 kg sur son pied. Il souffre beaucoup. Un SST est près de lui et lui conseille de ne pas bouger.

Tu ne raccroches pas le 1^{er} et tu reviens lorsque tu as passé le message.

6- Nommer et justifier le geste de secours que doit pratiquer le SST :

Ne pas mobiliser la victime afin d'éviter l'aggravation du traumatisme supposé.