

Défi math 2017 - problèmes pour le CP




Semaine 2

Problème n°1

Les crayons

La maîtresse a mal distribué les crayons.

Lulu en a 12, Zaza en a 6 et Toto en a 6 aussi.



La Maîtresse leur dit : « Arrangez-vous pour avoir tous les 3, le même nombre de crayons. Attention, il ne doit en rester aucun. »

Combien chaque enfant aura de crayons ?

Problème n°2

Le boudin aux pommes

Toto, Coco, Lolo et Popo mangent du boudin aux pommes.

Il faut 2 boudins et 3 pommes pour chacun.

Combien faut-il de boudins et de pommes en tout ?